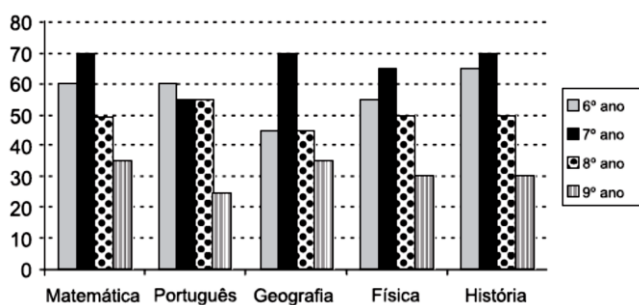


QUESTÃO 01

(SAEPE) Ao final de um ano letivo, uma escola construiu um gráfico para mostrar a quantidade de livros devolvidos em cada ano escolar. Veja a seguir:

Devolução de Livros Didáticos



O quadro que representa esse gráfico é

- A)
- | | Matemática | Português | Geografia | Física | História |
|--------|------------|-----------|-----------|--------|----------|
| 6º ano | 60 | 60 | 45 | 55 | 65 |
| 7º ano | 70 | 55 | 70 | 65 | 70 |
| 8º ano | 35 | 25 | 35 | 30 | 30 |
| 9º ano | 50 | 55 | 45 | 50 | 50 |
- B)
- | | Matemática | Português | Geografia | Física | História |
|--------|------------|-----------|-----------|--------|----------|
| 6º ano | 70 | 55 | 70 | 65 | 70 |
| 7º ano | 60 | 60 | 45 | 55 | 65 |
| 8º ano | 50 | 55 | 45 | 50 | 50 |
| 9º ano | 35 | 25 | 35 | 30 | 30 |
- C)
- | | Matemática | Português | Geografia | Física | História |
|--------|------------|-----------|-----------|--------|----------|
| 6º ano | 60 | 60 | 45 | 55 | 65 |
| 7º ano | 35 | 25 | 35 | 30 | 30 |
| 8º ano | 50 | 55 | 45 | 50 | 50 |
| 9º ano | 70 | 55 | 70 | 65 | 70 |
- D)
- | | Matemática | Português | Geografia | Física | História |
|--------|------------|-----------|-----------|--------|----------|
| 6º ano | 35 | 25 | 35 | 30 | 30 |
| 7º ano | 70 | 55 | 70 | 65 | 70 |
| 8º ano | 50 | 55 | 45 | 50 | 50 |
| 9º ano | 60 | 60 | 45 | 55 | 65 |
- E)
- | | Matemática | Português | Geografia | Física | História |
|--------|------------|-----------|-----------|--------|----------|
| 6º ano | 60 | 60 | 45 | 55 | 65 |
| 7º ano | 70 | 55 | 70 | 65 | 70 |
| 8º ano | 50 | 55 | 45 | 50 | 50 |
| 9º ano | 35 | 25 | 35 | 30 | 30 |

QUESTÃO 02

(SAEPE) Uma pesquisa foi realizada entre os 30 estudantes da segunda série do colégio "Estudar" para saber a preferência deles por um dos seguintes esportes: futebol de campo, futebol de salão, vôlei, tênis e natação. Cada estudante escolheu somente um esporte e os resultados dessa pesquisa estão apresentados no gráfico abaixo.



O quadro que apresenta esses mesmos resultados é

- A)
- | Esporte | Nº de estudantes que preferem |
|------------------|-------------------------------|
| Vôlei | 10 |
| Tênis | 4 |
| Natação | 8 |
| Futebol de salão | 2 |
| Futebol de campo | 6 |
- B)
- | Esporte | Nº de estudantes que preferem |
|------------------|-------------------------------|
| Vôlei | 8 |
| Tênis | 4 |
| Natação | 10 |
| Futebol de salão | 2 |
| Futebol de campo | 6 |
- C)
- | Esporte | Nº de estudantes que preferem |
|------------------|-------------------------------|
| Vôlei | 8 |
| Tênis | 6 |
| Natação | 2 |
| Futebol de salão | 4 |
| Futebol de campo | 10 |
- D)
- | Esporte | Nº de estudantes que preferem |
|------------------|-------------------------------|
| Vôlei | 8 |
| Tênis | 2 |
| Natação | 6 |
| Futebol de salão | 4 |
| Futebol de campo | 10 |
- E)
- | Esporte | Nº de estudantes que preferem |
|------------------|-------------------------------|
| Vôlei | 4 |
| Tênis | 2 |
| Natação | 6 |
| Futebol de salão | 8 |
| Futebol de campo | 10 |

QUESTÃO 03

(SAEPE) A tabela abaixo apresenta o percentual de consumo de energia elétrica em nível nacional, por região geográfica, no ano de 2015.

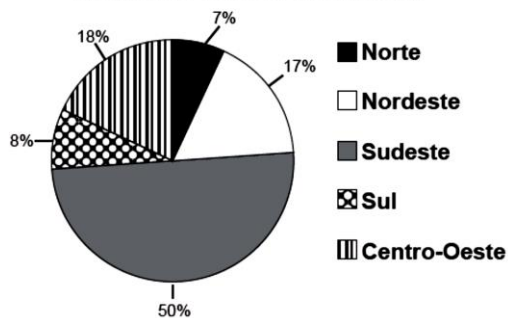
Consumo de energia elétrica em nível nacional no ano de 2015	
Região Geográfica	Percentual (em %)
Norte	7
Nordeste	17
Sudeste	50
Sul	18
Centro-Oeste	8
Total	100

Disponível em:
<[http://www.epe.gov.br/mercado/Documents/Box%20Mercado%20de%20Energia/Consumo%20Mensal%20de%20Energia%20El%C3%A9trica%20por%20Classe%20\(regi%C3%B5es%20e%20subsistemas\)%20-%202004-2016.xls](http://www.epe.gov.br/mercado/Documents/Box%20Mercado%20de%20Energia/Consumo%20Mensal%20de%20Energia%20El%C3%A9trica%20por%20Classe%20(regi%C3%B5es%20e%20subsistemas)%20-%202004-2016.xls)>.
Acesso em: 15 jul. 2016. *Adaptado para fins didáticos.

Qual é o gráfico que se relaciona com os dados fornecidos nessa tabela?

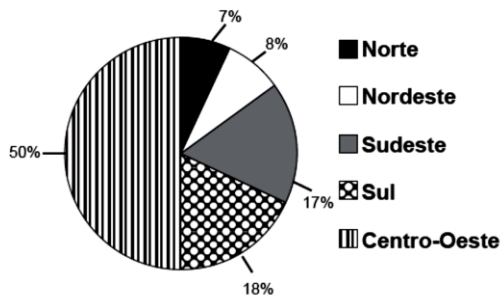
A)

Consumo de energia elétrica em níveis nacionais no ano de 2015



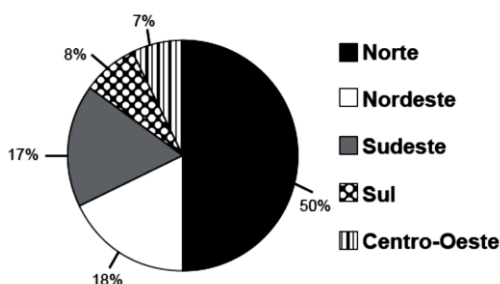
B)

Consumo de energia elétrica em níveis nacionais no ano de 2015



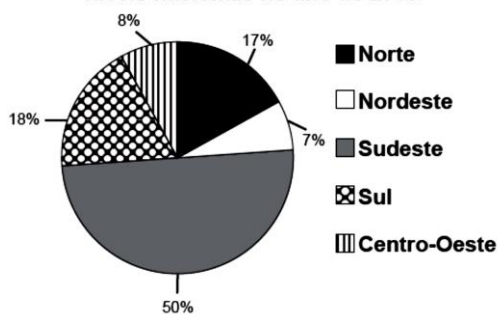
C)

Consumo de energia elétrica em níveis nacionais no ano de 2015



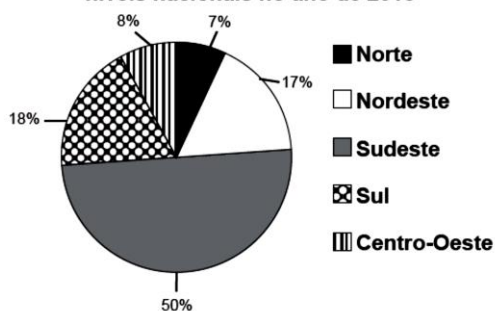
D)

Consumo de energia elétrica em níveis nacionais no ano de 2015



E)

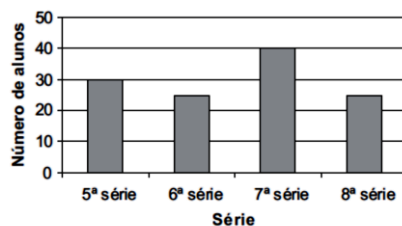
Consumo de energia elétrica em níveis nacionais no ano de 2015



QUESTÃO 04

(SAEGO) O gráfico abaixo mostra o número de alunos das séries finais do ensino fundamental, que praticam esporte.

Alunos que praticam esportes



A tabela que representa as informações contidas nesse gráfico é:

A)

Série	Número de alunos
5ª série	30
6ª série	20
7ª série	40
8ª série	25

B)

Série	Número de alunos
5ª série	30
6ª série	25
7ª série	40
8ª série	20

C)

Série	Número de alunos
5ª série	30
6ª série	20
7ª série	40
8ª série	20

D)

Série	Número de alunos
5ª série	30
6ª série	25
7ª série	40
8ª série	25

E)

Série	Número de alunos
5ª série	30
6ª série	30
7ª série	40
8ª série	30

QUESTÃO 05

(SAEGO) João anotou os gastos extras que teve no mês de janeiro em uma tabela, como a representada abaixo.

Despesas	Valor (R\$)
Material Escolar	150
IPVA	750
IPTU	245
IR	978

O gráfico que melhor representa os dados dessa tabela é:

